






**Actividades de refuerzo continuo en el hogar (5to grado)**

De 13/05/2019 hasta el 16/05/19

**Realiza los membretes y los márgenes en color rojo de los cuadernos que corresponden cada día.**

<b>Lunes</b>	<p><b>Lenguaje:</b> con el título "teatro", construye un guion teatral corto sobre la conservación del ambiente e ilustra.</p> <p><b>Matemática:</b> con el título "eje de simetría", traza los ejes de simetría en las siguientes figuras, luego indica cuantos ejes de simetría tienen en cada figura.</p> <p>a)       B)       c) </p>
<b>Martes</b>	<p><b>Cs. Sociales:</b> con el título "Venezuela agropecuaria (1859 – 1925), describe como era Venezuela en el siglo XIX.</p> <p><b>Ortografía:</b> busca en el diccionario las siguientes palabras y luego construye una oración.: burocracia, centralizar, actitud, coordinación, explotación, desplazamiento.</p>
<b>Miércoles</b>	<p><b>Lenguaje:</b> con el título "La Publicidad", piensa en un anuncio publicitario que hayas visto y describe los siguientes aspectos: propósito, relación entre imagen y texto, publico al que está dirigido, técnica del lenguaje publicitario.</p> <p><b>Matemática:</b> con el título "Operaciones combinadas", efectúa las siguientes operaciones combinadas:</p> <p>a) <math>(4 \times 10) / 20 / (12 / 6) - 2 \times 1</math> b) <math>3142 \times 3 - 57 \times 16 + 12 - 39</math> c) <math>916 + 15 - 35 \times 20 - 163</math></p> <p>- Con el título "Ecuaciones", despeja la incógnita: a) <math>3X + 9 = 15</math>      b) <math>Y + 4 + 1 = 12</math>      c) <math>2W - 5 = 6 + 5</math></p>
<b>Jueves</b>	<p><b>Cultura:</b> con el título "efemérides", investiga sobre el 23 de mayo Declaración de la orquídea Flor Nacional y el 25 mayo Día del Himno Nacional.</p> <p><b>Cs Naturales:</b> con el título "Problema de salud pública", elabora un mapa conceptual sobre las enfermedades de salud pública e ilustra.</p>

**English Homework**

<b>Monday</b>	Answer the following questions: * When do we celebrate Mother's day? *What is the importance of this situation?, then, draw your mother and write Why is she so important to you?
<b>Tuesday</b>	Circle the correct one: 1. Rose swept: a) the floor      b) her cat 2. Petter helped his mother and vacuumed: a) the armchair      b) his school bag 3. Yesterday I took out: a) the trash can      b) my dog 4. I really enjoyed when I washed: a) my clothes      b) my book
<b>Wednesday</b>	Write five sentences about what you did last sunday
<b>Thursday</b>	Complete the Workbook pages 68 – 70, activities #1 and #2, page 71 activity #1